




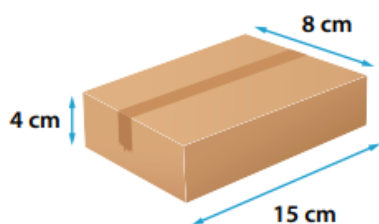
**COLEGIO NICOLAS ESGUERRA**  
**GUIA GEOMETRÍA – PLAN DE MEJORAMIENTO 901**  
DOCENTE: GLORIA VALBUENA




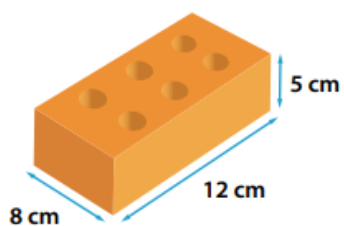
**ACTIVIDADES PARA REALIZAR**

Hallar área total y volumen de cada una de las siguientes figuras


- 1 Una caja de cartón.




- 2 Un ladrillo de construcción.



- 3 Un empaque de dulces.



- 4 Una caja de regalo.



2. Construya las siguientes figuras (prisma y pirámide) en cartulina y halle área total y el volumen de cada uno realizando los procedimientos correspondientes:

